

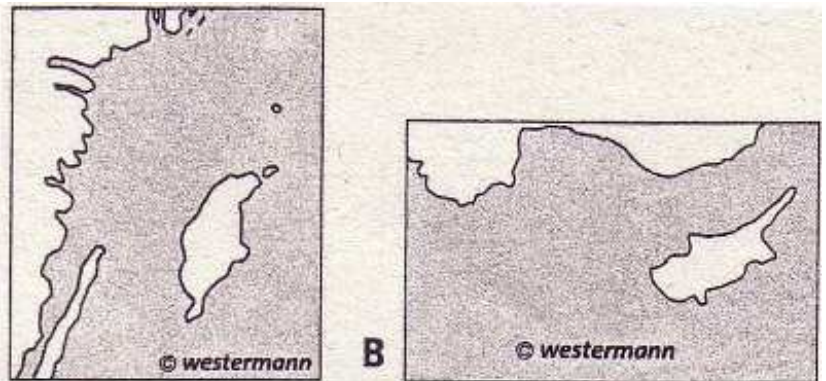
Wettbewerb „GeoWissen 2009“

DEUTSCHLAND

1. Berlin ist die Hauptstadt, das Ruhrgebiet einer der wichtigsten Wirtschaftsräume Deutschlands. Drei künstlich geschaffene Wasserstraßen verbinden beide miteinander. Gib den Namen eines Kanals an.
2. "Adler" ist nicht nur der Name eines großen Greifvogels, sondern auch die Bezeichnung für den ersten Eisenbahnzug. Nenne die beiden Städte, die er miteinander verband.
3. Lüneburg wird auch als die "Salzstadt" bezeichnet. Wähle aus, wozu man im Mittelalter einen Großteil des Salzes brauchte:
A zur Butterproduktion
B zum Einlegen saurer Gurken
C Herstellung von Leckstangen
D zum Einpökeln (Haltbarmachen) von Heringen
4. Vor der deutschen Nordseeküste liegen Reste des alten Marschlandes, das große Sturmfluten zerrissen haben. gib den Namen dieser kleinen Inseln im Wattenmeer an, die heute zum Teil bewohnt und durch niedrigen Deiche geschützt sind.
5. Eines der markantesten Bruchsysteme der Welt ist der Ostafrikanische Graben. Nenne den Namen der größten deutschen Grabenbruchzone.

EUROPA

6. Als "Orient" bezeichnet man das Morgenland. Schreibe die entsprechende Bezeichnung für das Abendland auf.
7. Eine südfranzösiche Stadt ist zum Standort der Hightech-Industrie aufgestiegen, u.a. durch den Hauptsitz des Unternehmens "AIRBUS S.A.S.", Notiere den Namen dieser Stadt.
8. Benenne die abgebildeten europäischen Inseln
9. Schreibe den Namen des Meeres auf, an das Bulgarien grenzt.
10. Als legendäre Gewürz- und Sklaveninsel vor der Ostküste Afrikas hat sie die Begehrlichkeiten in ganz Europa geweckt. Nenne ihren Namen.

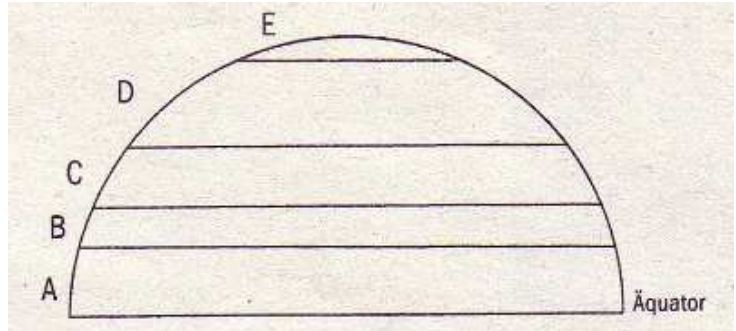


WELT

11. Einmal im Jahr sorgt in der Antarktis ein besonderes Ereignis für Abwechslung der dort lebenden Forscher. Wähle das richtige aus:
A Marathon
B Tanz in den Mai
C Antarktis' Next Top Pinguin
12. Landwirtschaftliche Großbetriebe verfügen häufig über Flächen von über 2.000 ha. Sie sind spezialisiert auf Viehwirtschaft oder Ackerbau mit Dauerkulturen wie zum Beispiel Kaffee. Nenne den spanischen Fachbegriff für diese Großbetriebe.
13. Entscheide dich und kennzeichne Indien: Indien ist der weltgrößte ...
a) Importeur von Gold
b) Produzent von Seide
c) Züchter von Rosen
14. Ostafrika gilt als Keimzelle der menschlichen Entwicklung. Irgendwann tauchte ein merkwürdiges, hilfloses, aber ziemlich gewitztes Wesen namens *homo sapiens* auf. Die ältesten Skeletteile von ihm sind ca. alt:
A 1,7 Mio Jahre
B 200.000 Jahre
C 60.000 Jahre

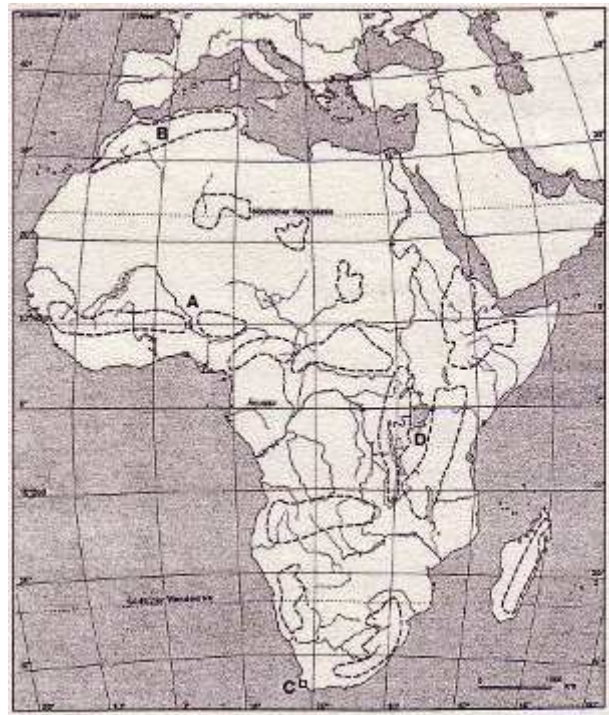
ALLGEMEINE GEOGRAFIE

15. Erkaltete bzw. abgekühlte Himmelskörper unseres Sonnensystems, die nicht mehr von sich aus leuchten, bezeichnet man als Ergänze.
16. Klee oder Luzerne werden häufig nur deshalb angebaut, weil sie dem Boden einen wertvollen Nährstoff zufügen. Nenne diesen.
17. Ordne die folgenden Klima- und Beleuchtungszonen den in der Skizze dargestellten (A - E) richtig zu:
(1) Gemäßigte Zone
(2) Tropische Zone
18. Gesucht ist der italienische Begriff für eine vom Meer durch eine Nehrung abgetrennte seichte Wasserfläche. Das bekannteste Beispiel, die Stadt Venedig, liegt inmitten einer solchen. Notiere den Fachbegriff.
19. Im Jahre 2007 vernichtete eine Flutkatastrophe viele Dörfer am südlichen "Ufer" der Sahara und machte Hunderttausende obdachlos - eine Zone, in der normalerweise nur geringe Niederschlagsmengen fallen. Gib den Fachbegriff für diese Zone/diesen Raum an.



KARTENAUFGABE

20. In der Karte findest du insgesamt vier Eintragungen (A - D), deren genaue Namen/Bezeichnungen du herausfinden sollst.
A Fluss:
B Gebirge:
C Stadt:
D See:



Lösungen

DEUTSCHLAND

1. Dortmund-Ems-kanal *oder* Mittellandkanal *oder* Elbe-Havel-Kanal
2. Nürnberg und Fürth
3. D
4. Halligen
5. Oberrheingraben *oder* Oberrheinische Tiefebene

EUROPA

6. Okzident
7. Toulouse
8. A Gotland
B Zypern
9. Schwarzes Meer
10. Sansibar

WELT

11. Marathon
12. Hazienda
13. Importeur von Gold
14. B

ALLGEMEINE GEOGRAPHIE

15. Planet(en)
16. Stickstoff
17. (1) C
(2) A
18. Lagune
19. Sahelzone *oder* Sahel

KARTENAUFGABE

- A Niger
- B Atlas (-gebirge)
- C Kapstadt
- D Victoriasee